

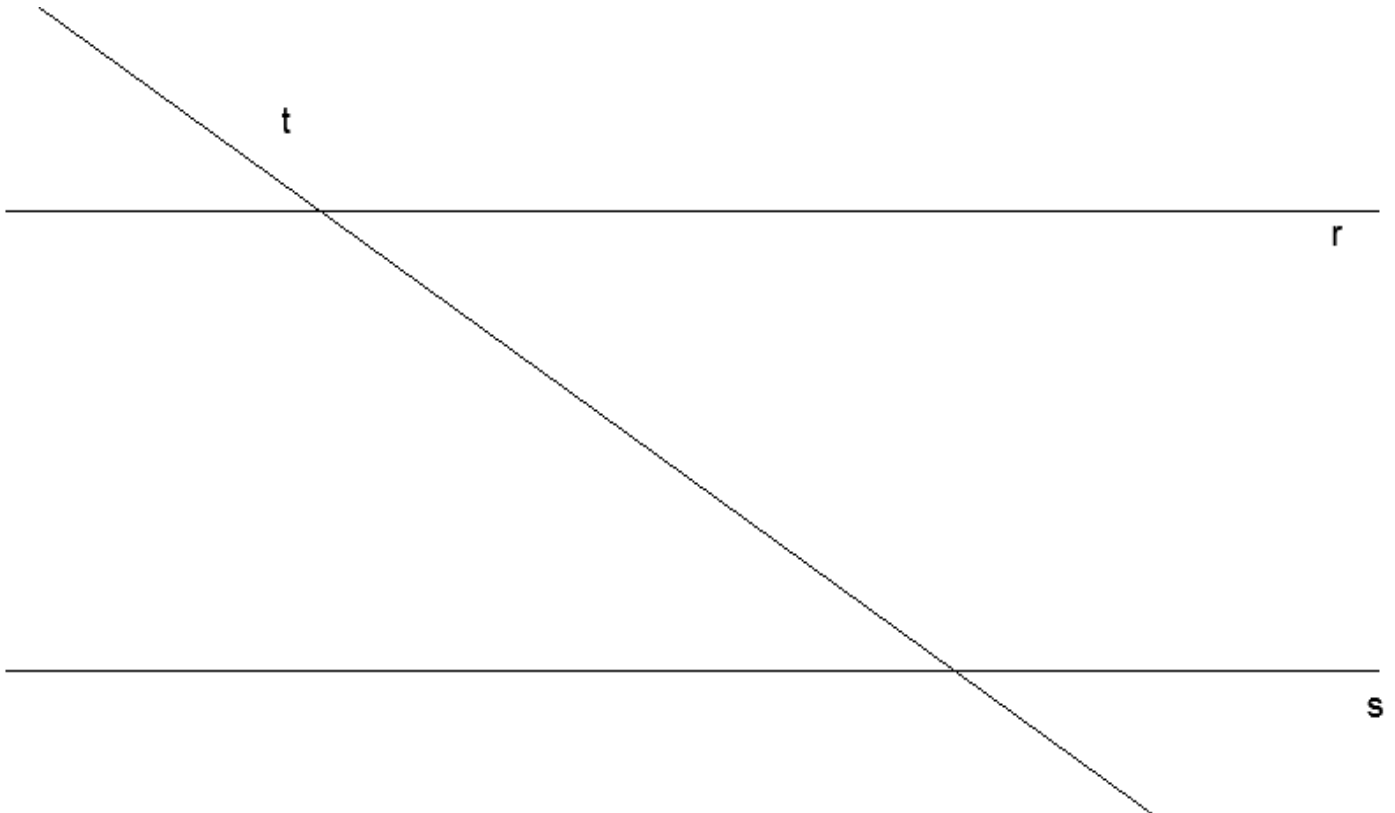


Parte Específica - Opción B
DIBUJO TÉCNICO (Duración: 1 hora y 15 minutos)

DATOS DEL ASPIRANTE	CALIFICACIÓN
Apellidos:	
Nombre:	

EJERCICIO 1. TANGENCIAS. (Puntuación máxima 3 puntos)

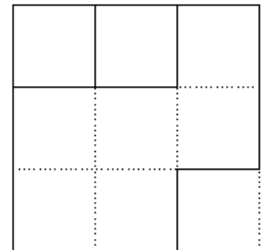
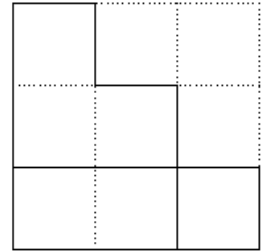
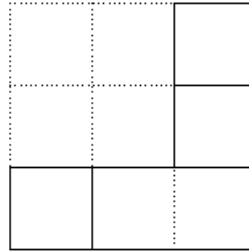
Dibujar las circunferencias tangentes a las tres rectas r, s, y t, siendo dos de ellas paralelas. Indicar claramente los puntos de tangencia.





Ejercicio 2. PERSPECTIVA ISOMÉTRICA. (Puntuación máxima 3 puntos)

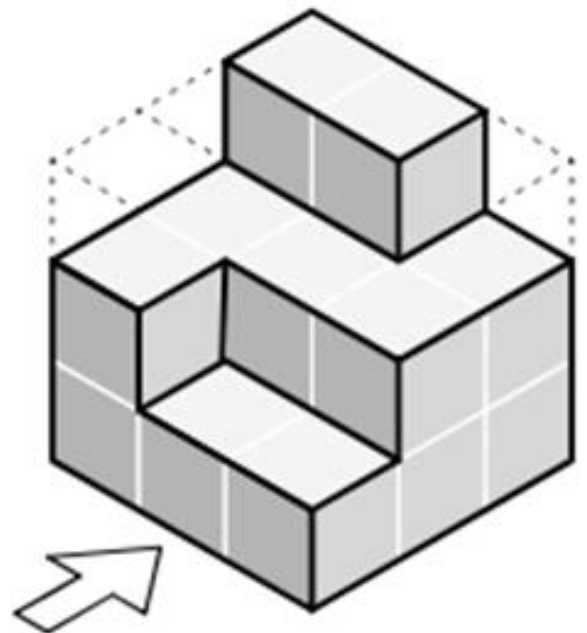



Representar en perspectiva isométrica la siguiente figura dada en proyecciones.





EJERCICIO 3. VISTAS DIÉDRICAS DE UNA PIEZA. (Puntuación máxima 4 puntos)

Dada la siguiente pieza y según indicación de la vista principal dibujar a mano alzada las tres vistas de sus proyecciones diédricas en el Sistema Europeo.



Criterios de evaluación: Dominio de las capacidades específicas que son objeto de esta prueba. Se tendrá en cuenta la claridad y limpieza en los dibujos.

Criterios de calificación: Las calificaciones de cada ejercicio vienen expresadas en sus enunciados. La solución correcta a las cuestiones planteadas se puntuará como máximo con el 90% de la nota adjudicada, siendo el 10% restante utilizado para valorar las destrezas referidas a la realización: seguridad en el trazado, ausencia de tachaduras y todo aquello que contribuya a una óptima calidad gráfica.