

**INSTRUCCIONES GENERALES Y VALORACIÓN**

**INSTRUCCIONES:** Dispone de dos opciones para contestar (A y B). Debe escoger exclusivamente una de ellas.

**DURACIÓN:** 90 minutos

**CALIFICACIÓN:** La puntuación total será en ambas de **10 puntos**, correspondiendo a la primera parte **1,5 puntos**, a la segunda **4 puntos**, a la tercera **2,5 puntos** y **2 puntos** a la cuarta.

**OPCIÓN A**

**1ª PARTE**

Entre los 8 términos geográficos siguientes **elija 6 y defínalos**.

**Paralelo, Marisma, Anticiclón, Vegetación Esclerófila, Ciudad Dormitorio, Minifundio, Producto Nacional Bruto, FEDER**

**2ª PARTE**

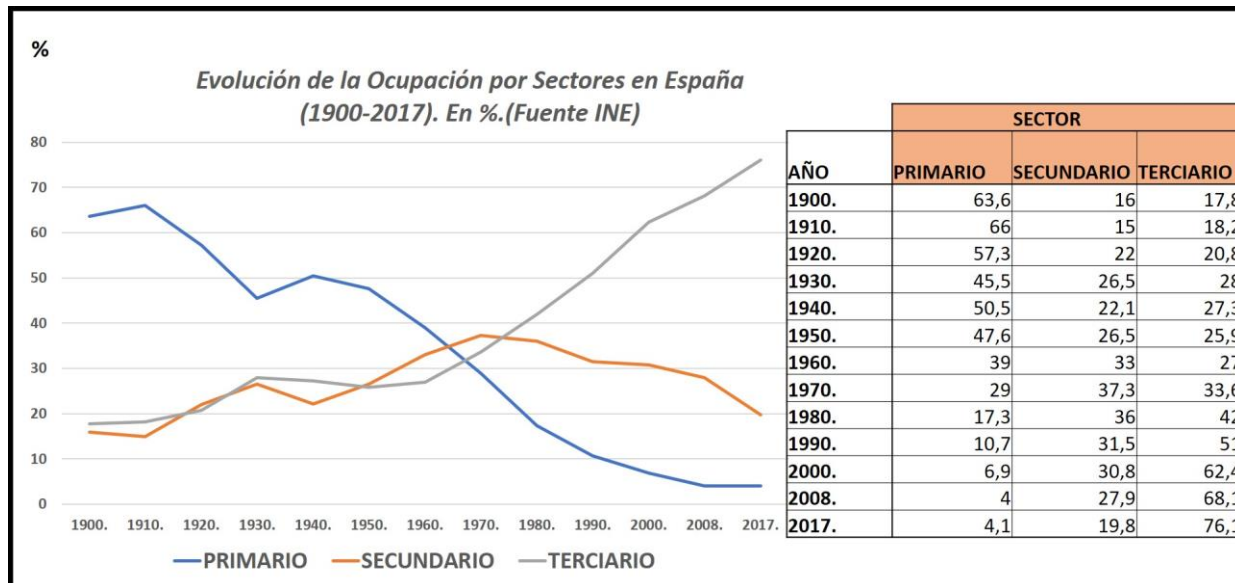
**EL ÁREA CALIZA EN ESPAÑA.** Desarrolle este tema atendiendo a:

- Su localización.
- Características principales del roquedo.
- Formas principales del relieve kárstico: enumere y describa brevemente.

**3ª PARTE**

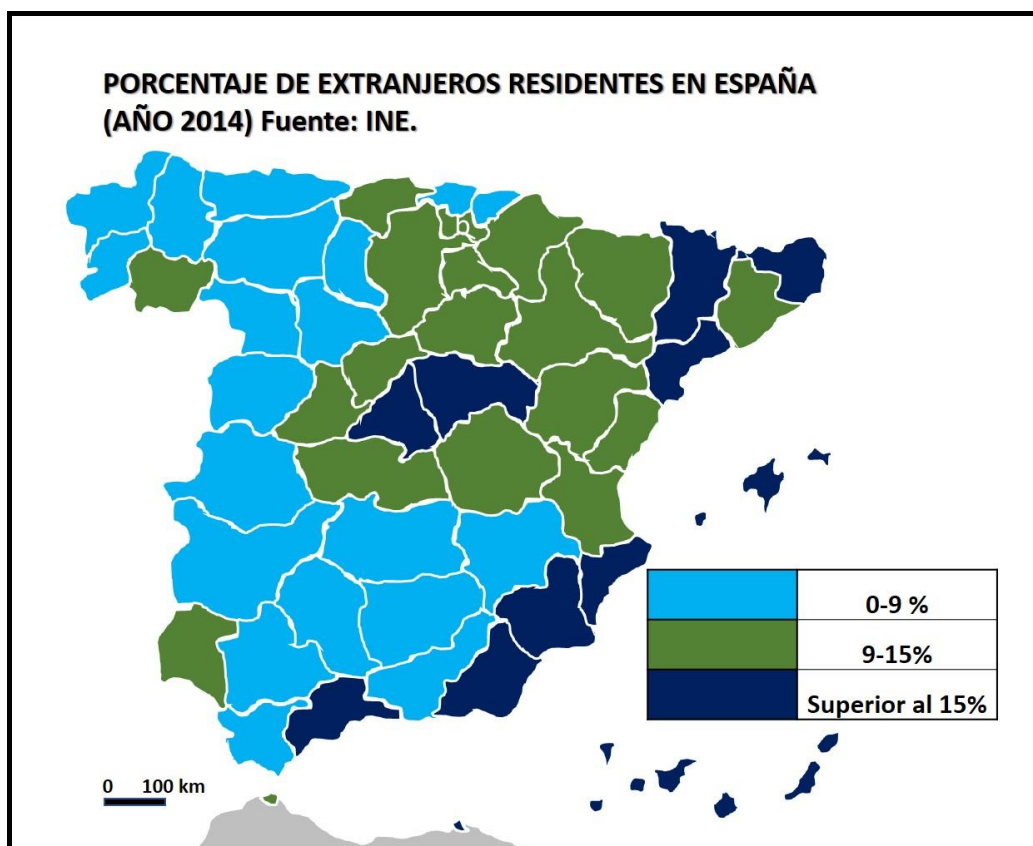
A partir del siguiente gráfico y tabla sobre *la evolución de la ocupación por sectores en España para el período 1900 a 2017*, responda a las siguientes preguntas:

- ¿Qué actividades representan cada uno de los tres sectores?
- Explique en detalle el proceso de terciarización y sus causas con el apoyo del gráfico.



#### 4ª PARTE

A la vista del mapa adjunto sobre el *porcentaje de extranjeros residentes en España*, enumere 5 provincias con un porcentaje mayor al 15% (color azul oscuro), y otras 5 con el porcentaje inferior al 10% (color azul claro). Explique brevemente los principales factores y consecuencias de esta distribución.



**OPCIÓN B**

**1ª PARTE**

Entre los 8 términos geográficos siguientes **elija 6 y defínalos**.

**Escala de un plano o mapa, Delta, Isobaras, Landa, Área Periurbana, PAC, Balanza Comercial, Banco Mundial.**

**2ª PARTE**

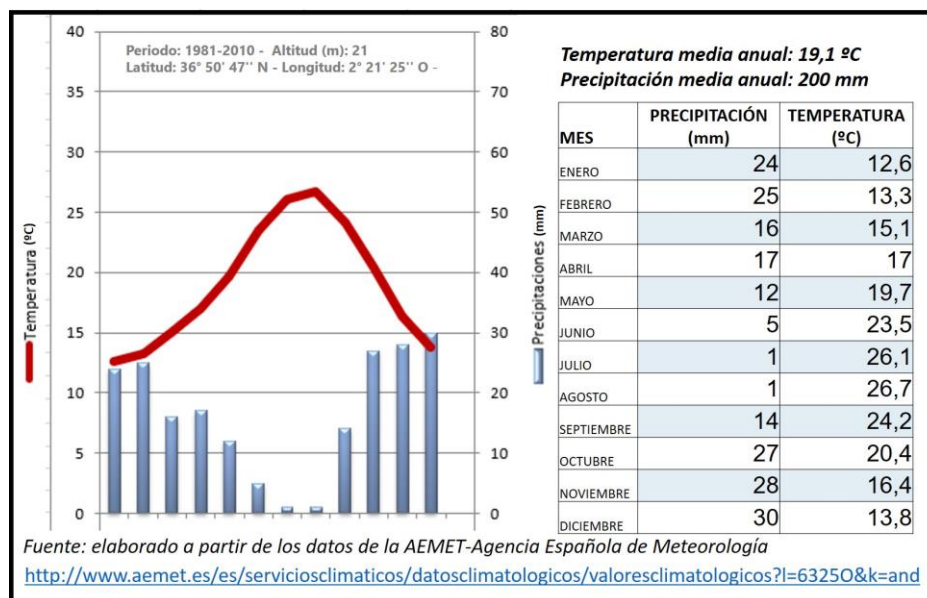
**SISTEMA DE PROPIEDAD Y EXPLOTACIÓN AGRARIA. Desarrolle este tema atendiendo preferiblemente a los siguientes apartados:**

- ¿Qué es una propiedad agraria?
- El Tamaño de la propiedad.
- La concentración parcelaria de 1985.
- Régimen de tenencia.

**3ª PARTE**

Analice y comente la siguiente figura atendiendo a las **siguientes cuestiones**:

- ¿Cómo se llama este tipo de representación y cuál es su utilidad?
- ¿Qué tipo de clima está representado? Indique la posible localización. Razone su respuesta en función de los datos de precipitación y temperatura.
- Influencia de este tipo de clima en el medio natural (vegetación asociada, ríos, etc) y en las actividades humanas.



#### 4ª PARTE

A la vista del mapa adjunto sobre *el porcentaje de distribución de población activa en el sector industrial*, enumere 5 provincias con un alto porcentaje (color marrón oscuro y superior al 20%) y 5 provincias con un porcentaje bajo (inferior al 10%, en naranja). Explique brevemente las razones de esta distribución.

